

LIVE



राष्ट्रीय परीक्षा एजेंसी
National Testing Agency
Excellence In Assessment

UGC-NET 2021

Data Interpretation

4-Question

Live Time- 11:00 AM

By-Jitendra Goswami

www.Fillerform.info




/Fillerform

Paper 1st **LIVE**

14th

प्रश्न

16-12) नीचे दी गयी सारणी व ग्राफ का अध्ययन कर नीचे दिये गये प्रश्नों के उत्तर दीजिए।
सात विभिन्न राज्यों में किसी स्पर्धात्मक परीक्षा में सम्मिलित हुये उम्मीदवारों का विवरण



कुल सम्मिलित उम्मीदवार = 3 लाख

उत्तीर्ण उम्मीदवारों का राज्यवार प्रतिशत व स्त्री व पुरुष की संख्या का अनुपात

राज्य	किसी राज्य में उत्तीर्ण उम्मीदवारों का सम्मिलित उम्मीदवारों से प्रतिशत	उत्तीर्ण उम्मीदवारों का अनुपात पुरुष : स्त्री
A	49	4 : 5
B	61	6 : 4
C	54	7 : 8
D	45	3 : 2
E	65	7 : 6
F	57	11 : 8
G	48	9 : 11

6. राज्य 'G' में उत्तीर्ण पुरुष उम्मीदवारों की संख्या क्या है ?

(A) 4,568

(B) 5,454

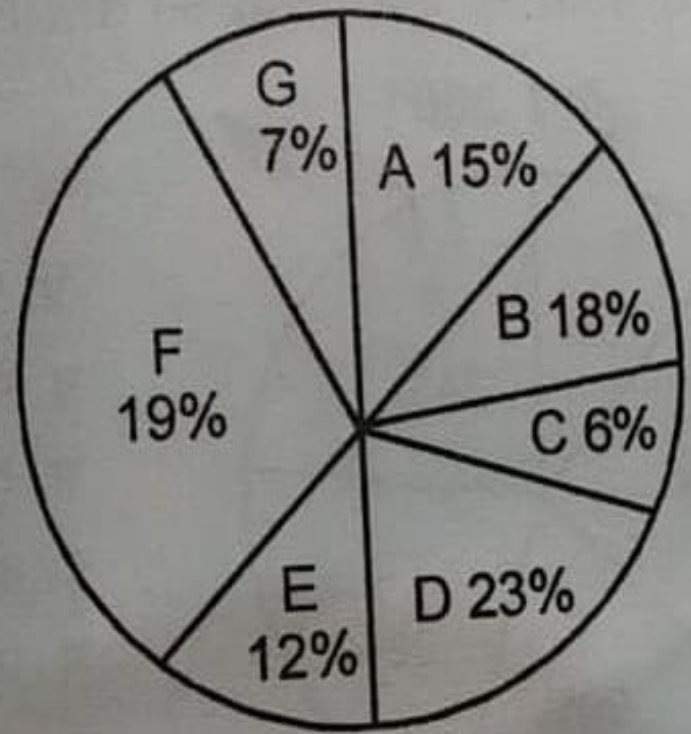
(C) 5,544

(D) 4,536

1

प्रश्न

16-12) नीचे दी गयी सारणी व ग्राफ का अध्ययन कर नीचे दिये गये प्रश्नों के उत्तर दीजिए।
सात विभिन्न राज्यों में किसी स्पर्धात्मक परीक्षा में सम्मिलित हुये उम्मीदवारों का विवरण



कुल सम्मिलित उम्मीदवार = 3 लाख

उत्तीर्ण उम्मीदवारों का राज्यवार प्रतिशत व स्त्री व पुरुष की संख्या का अनुपात

राज्य	किसी राज्य में उत्तीर्ण उम्मीदवारों का सम्मिलित उम्मीदवारों से प्रतिशत	उत्तीर्ण उम्मीदवारों का अनुपात पुरुष : स्त्री
A	49	4 : 5
B	61	6 : 4
C	54	7 : 8
D	45	3 : 2
E	65	7 : 6
F	57	11 : 8
G	48	9 : 11

(C) 26,526

7. राज्यों A और B में मिलाकर कुल उत्तीर्ण स्त्री उम्मीदवारों की संख्या क्या है ?


(A) 26,526

(B) 25,426

(C) 26,426

(D) 24,526

16-12) नीचे दी गयी सारणी व ग्राफ का अध्ययन कर नीचे दिये गये प्रश्नों के उत्तर दीजिए।
सात विभिन्न राज्यों में किसी स्पर्धात्मक परीक्षा में सम्मिलित हुये उम्मीदवारों का विवरण



कुल सम्मिलित उम्मीदवार = 3 लाख

उत्तीर्ण उम्मीदवारों का राज्यवार प्रतिशत व स्त्री व पुरुष की संख्या का अनुपात

राज्य	किसी राज्य में उत्तीर्ण उम्मीदवारों का सम्मिलित उम्मीदवारों से प्रतिशत	उत्तीर्ण उम्मीदवारों का अनुपात पुरुष : स्त्री
A	49	4 : 5
B	61	6 : 4
C	54	7 : 8
D	45	3 : 2
E	65	7 : 6
F	57	11 : 8
G	48	9 : 11

12. राज्य 'F' में कितनी स्त्री उम्मीदवार उत्तीर्ण हुई हैं।

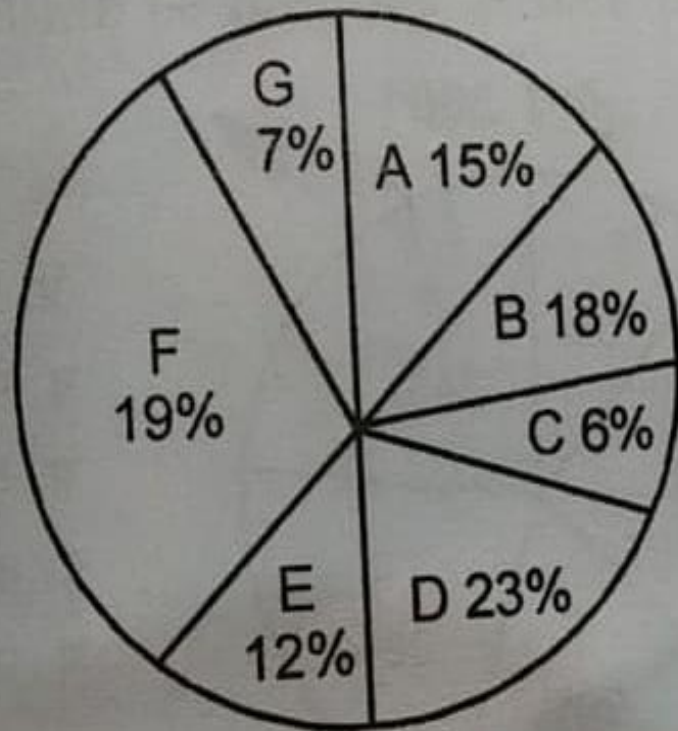
(A) 32,490

(B) 18,810

(C) 13,810

(D) इनमें से कोई नहीं

16-12) नीचे दी गयी सारणी व ग्राफ का अध्ययन कर नीचे दिये गये प्रश्नों के उत्तर दीजिए।
सात विभिन्न राज्यों में किसी स्पर्धात्मक परीक्षा में सम्मिलित हुये उम्मीदवारों का विवरण



कुल सम्मिलित उम्मीदवार = 3 लाख

उत्तीर्ण उम्मीदवारों का राज्यवार प्रतिशत व स्त्री व पुरुष की संख्या का अनुपात

राज्य	किसी राज्य में उत्तीर्ण उम्मीदवारों का सम्मिलित उम्मीदवारों से प्रतिशत	उत्तीर्ण उम्मीदवारों का अनुपात पुरुष : स्त्री
A	49	4 : 5
B	61	6 : 4
C	54	7 : 8
D	45	3 : 2
E	65	7 : 6
F	57	11 : 8
G	48	9 : 11

11. राज्य 'D' में कितने उम्मीदवार सम्मिलित हुए हैं ?


(A) 41,400

(B) 27,600

(C) 32,400

(D) इनमें से कोई नहीं

16-12) नीचे दी गयी सारणी व ग्राफ का अध्ययन कर नीचे दिये गये प्रश्नों के उत्तर दीजिए।
सात विभिन्न राज्यों में किसी स्पर्धात्मक परीक्षा में सम्मिलित हुये उम्मीदवारों का विवरण



कुल सम्मिलित उम्मीदवार = 3 लाख

उत्तीर्ण उम्मीदवारों का राज्यवार प्रतिशत व स्त्री व पुरुष की संख्या का अनुपात

राज्य	किसी राज्य में उत्तीर्ण उम्मीदवारों का सम्मिलित उम्मीदवारों से प्रतिशत	उत्तीर्ण उम्मीदवारों का अनुपात पुरुष : स्त्री
A	49	4 : 5
B	61	6 : 4
C	54	7 : 8
D	45	3 : 2
E	65	7 : 6
F	57	11 : 8
G	48	9 : 11

(C) 26,426

7. राज्यों A और B में मिलाकर कुल उत्तीर्ण स्त्री उम्मीदवारों की संख्या क्या है ?

(A) 26,526

(B) 25,426

(C) 26,426

(D) 24,526